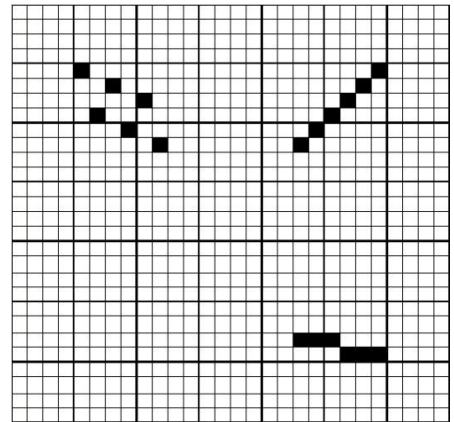


# TEST ZAČÁTEK SEMESTRU – VVT

1. Převeďte na stejné jednotky tex  
a označte nejhrubší přízi: 62 tex, 110 dtex, Čm 40.
2. Máme Čp 90, pravidelný návod do zubu  $\frac{1}{2}$ , Šp = 170 cm.  
Jaká je Do? Jaký je cpn?



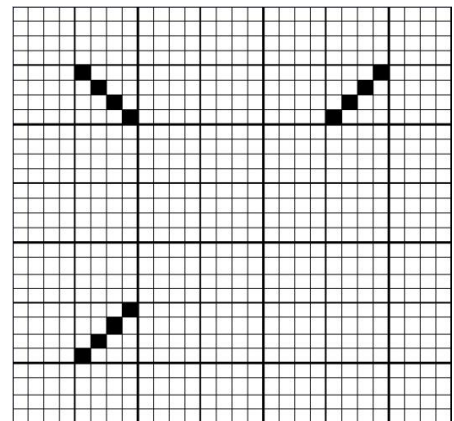
3. TVT pro plátno.  
Použili jsme rozsazený návod do listů a pravý listový stroj.

Dokreslete střidu vazby černě a rozkreslení po střídě červeně.

Nitě naved'te po 3 do zubu paprsku.

Napište vzorec vazby.

Nakreslete příčný řez 1. útkem.



4. TVT pro 4vazný kepr pravého směru. Použili jsme hladký návod do 4 listů a pravou listovku.

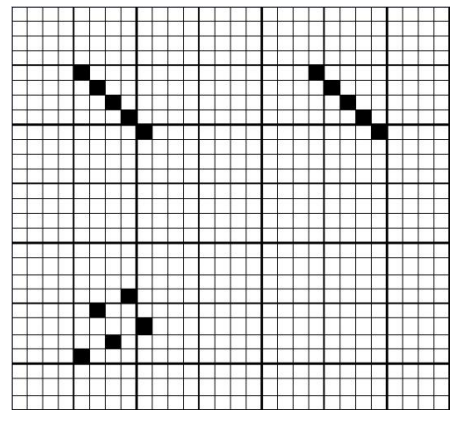
Dokreslete karty.

Vazbu rozkreslete po střídě.

Osnovní nitě naved'te po dvou do zubu paprsku.

Napište vzoreček vazby.

Nakreslete podélný řez 1. osnovní nití.



5. TVT pro 5vazný atlas s PČ 2. Použili jsme hladký návod do 5 listů a levou listovku.


Dokreslete program pro vazbu (karty).

Vazbu rozkreslete po střídě.

Nitě naved'te po pěti do zubu paprsku.

Napište vzoreček vazby.

Co udává postupné číslo?



6. Nakreslete TVT tak, aby byla funkční.

Najděte střidu vazby,  
rozkreslete po střídě,  
zvolte návod do zubů  
a minimální počet listů (v praxi se tato  
vazba používá pro husté osnovy, proto  
použijeme více listů).

Tkací stroj je vybaven pravou listovkou.

