

Psychologie vývojová

PhDr. Simona Kiryková, Ph.D.

Studijní opora čerpá z materiálů, které vznikly v rámci ESF projektu č. CZ1.07/2.2.00/18.0027.





Datum 20.10.

Jméno Lucka

1. Napiš diktát.

Tebe má ráda mlíko. Mamma mu ji
dává. Tebe roste. Už se samo pase. A bude
šaké dávat mlíko.



2. Opíš věty.



Netopýři noci víří.

Netopýři noci víří.

To jsem rád, že nejsem šízala.

To jsem rád, že nejsem šízala.



3. Přepiš věty.



Slůně Ferda tuze stůně.

Slůně Ferda tuze stůně.

Krtek vrtá tunely. Je to vrták. Krtek vrtá tunely.

Je to vrták.

4. Je to pravda?

Čáp má čtyři nohy.
 Na jaře kvetou slomy.
 Jelen je domácí zvíře.
 Maminka šitnat je fena.
 Mrkev je ovoce.

ANO NE
 ANO NE
 ANO NE
 ANO NE
 ANO NE

5. Dopln věty správnými slovy.

Na udici se chytil <i>kapu</i>	kufr.
Petr hledal na měření <i>metru</i>	kopr.
Na koláč nasypu <i>cukru</i>	metr.
Vypůjčím si tvůj <i>kufru</i>	vítr.
Listí odfoukal silný <i>vítru</i>	kapr.
Do omáčky nakrájím <i>kapu</i>	cukr.

6. Co udělám?

Bolí mě zub.	Dám si na hlavu deku.
	Půjdu se koulovat.
	Zajdu k zubaři.
Vadnou květiny.	Vyhodím je z okna.
	Půjdu na procházku.
	Zaleju je.
Je mi horko.	Vlezu do umyvadla.
	Sundám si svetr.
	Zalezu do lednice.

Čtvrtletní písemná práce z českého jazyka 2. třída

Jméno: Lučka Nováková

Datum: 26. 11.



1. Napiš diktát.

Máme v pokojíčku kamaráka Pepu. Má barevné
peří. Nechce sáhat zrní. Co mu dáme?}
Podej honem pravo! } To je Pepovy chutná. }

1

2. V první větě barevně označ samohlásky.

3. Z diktátu vypiš **jedno slovo**

dvojslabičné Máme / máme

trojslabičné kamaráka

čtyřslabičné ~~xx~~ pokojíčku

Rozděl slova na slabiky.

1

4. Z následujících slov sestav věty oznamovací.
Nezapomeň, že na začátku věty píšeme
VELKÉ PÍSMENO.

vrátil tatínek z práce se

Tatínek se vrátil z práce. 5

bramborovou měli kaši k jsme večeři

K večeři jsme mně měli bramborovou kaši. 6

5. Za větami napiš číslem počet slov. 0

6. Vybarvi stejnou pastelkou pohádkovou postavičku a
název pohádky. 1

Canfourek	Říkání o víle Amálce
Pejsek	Knížka Ferdy Mravence
Beruška	Byla jednou kořata
víla Amálka	Povídání o pejskovi a kočičce

SROVNÁVACÍ TEST – ČESKÝ JAZYK 2. ročník

jméno: Lučka

1) Přečti si pozorně text



Malá Tereška šla s Hynkem do zahrádky.

Koukají na zadní díl záhonů. Pozorují tam nějaký pohyb. Je to žabka nebo ptáček? Na záhoně sedí zajiček a chroupe hlávky kapusty.

2) Vyber z textu a napiš:

- dvě vlastní jména: Tereška, Hyněk
- tři slovesa: šla, koukají, pozorují
- tři podstatná jména: Tereška, Hyněk, zahrádka
- dvě slova s měkkou slabikou: díl, radní
- dvě slova s tvrdou slabikou: Hyněk, hlávky

Splň další úkoly:

- Zelenou pastelkou podtrhni větu tázací.
- Červenou pastelkou podtrhni souvětí.
- Vymysli jiné souvětí se stejnou spojkou a zapiš.

Martina a Kája spírají, ale Honza nejspírá. 16

3) Doplň samohlásky do slov.

Běž í liška k Taoru,

ne se pytl zázvuru.

Ježuk za ní pospíí,

ží jí pyl rozpíí.

8

4) Spoj slova protikladná.

<u>Naba</u>	strýc
hloupý	starší
chlapec	černý
mladší	dívka
teta	máma
bílý	chytrý
	žlutý

Čtvrtletní písemná práce z matematiky 2. třída

Jméno: Lučka Navrková

Datum: 1. 11. 2017



1. Marika si koupila sešit za 6 Kč a pero za 8 Kč. Kolik Kč zaplatila?

$$6 + 8 = 15$$

~~5 + 8 = 13~~ Marika zaplatila ~~15~~ Kč.

tek

2. Dědeček měl 19 jabloní. Na podzim 14 jabloní pokácel. Kolik jabloní mu zbylo?

$$19 - 14 = 5$$

7 - Dědečkovi zbylo 5 jabloní.

3. Vypočítej.

$8 + 4 = 12$	$19 - 3 = 16$	$14 - 6 = 8$	$18 + 2 = 20$
$8 + 11 = 19$	$14 - 2 = 12$	$18 - 5 = 13$	$9 + 4 = 13$
$3 + 15 = 18$	$15 - 7 = 8$	$12 - 6 = 6$	$13 + 6 = 19$
$6 + 7 = 13$	$17 - 6 = 11$	$15 - 4 = 11$	$9 + 9 = 18$

0

4. Vypočítej.

$3 + 9 = 12$	$10 - 3 = 7$	$1 + 17 = 18$	$18 - 16 = 2$
$10 + 5 = 15$	$10 - 5 = 5$	$13 - 6 = 7$	$9 - 4 = 5$
$5 + 6 = 11$	$10 - 8 = 2$	$8 + 10 = 18$	$18 - 14 = 4$
$2 + 15 = 17$	$10 - 1 = 9$	$7 + 11 = 18$	$18 - 10 = 8$

tek



5. Oprav chyby.

$$14 - 4 = 18$$

$$16 - 9 = \cancel{7} \quad 16 - 9 = 7$$

$$18 - 7 = 11$$

$$13 + 6 = 19$$

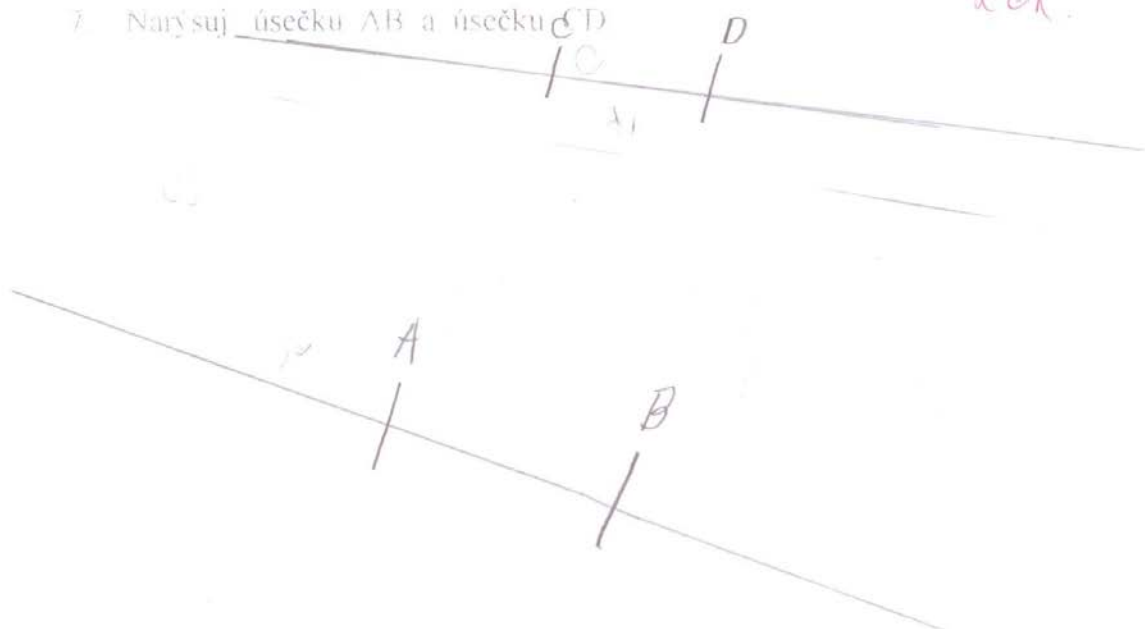
$$15 - 7 = \cancel{8} \quad 15 - 7 = 8$$

6. Nakresli jeden červený obdélník, jeden zelený trojúhelník,
jeden modrý kruh.



7. Narýsuj úsečku AB a úsečku CD

2ch.



Pololetní písemná práce z matematiky 2. třída

Jméno: Lučka

Datum: 13.1.

Na celou práci se podívej a dej se s chutí do toho. Ničeho se neboj, vždyť tohle všechno znáš. A když ti něco nepůjde, tak to přeskoč a pak se k tomu vrať. Držím ti palce...



1. V sobotu kocour Mikeš chytil 9 myši a v neděli dalších 6. Kolik myši celkem ulovil za celý víkend?

$9+6=15$ Mikeš chytil 15 myši.

2. Mikeš šel do světa. V ranečku si nesl 20 buchet. Cestou však 6 buchet ztratil. Kolik buchet mu zůstalo?

$20-6=14$
Mikeš stratil 6 buchet. Mikešovi zůstalo 14 buchet.



3. Vypočítej.

$6+6=12$	$16-5=11$	$9+9=18$	$18-4=14$
$9+3=12$	$11-2=9$	$16+2=18$	$9+3=12$
$8+4=12$	$18-9=9$	$16-5=11$	$7-1=6$
$11+1=12$	$14-7=7$	$18-4=14$	$2+10=12$

4. Vypočítej.



$30+30=60$	$60-20=40$	$20+5=25$
$20+10=30$	$80-40=40$	$70+7=77$
$40+60=100$	$40-0=40$	$45-5=40$
$50+50=100$	$100-70=30$	$88-8=80$

5. Která čísla chybí? Dopln.

55 | 56 | 57 | 58 | 59

100 | 99 | 98 | 97 | 96 | 95 | 29 | 30 | 31 | 32 | 33 | 34

TEST VŠEOBECNÝCH ZNALOSTÍ - 2. ročník


Jméno: Ludka

1) Zakroužkuj letní měsíce.

leden červenec listopad duben únor září 3
 březen srpen červen říjen prosinec květen

2) Přiřaď čísla správného názvu k dopravním značkám a značky vybarvi.

1. hlavní silnice
2. zákaz vstupu chodců
3. dej přednost v jízdě

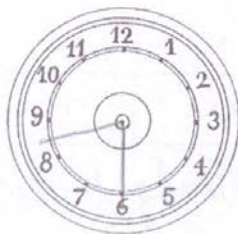


3) Doplň povolání.

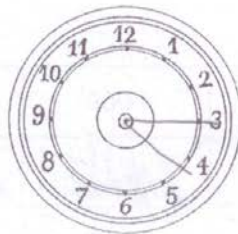
Krajkář šije šaty.
Doktor léčí lidi.

Zubář spravuje zuby.
Zedník staví domy.

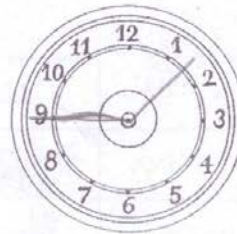
4) Vyznač správný čas.



půl deváté



čtvrt na pět



tři čtvrtě na dvě

3 3

5) Zakroužkuj správnou odpověď.

1. První pomoc zavoláš číslem: 158 155 150

2. Jablko je: malvice peckovice bobule

3. Mrkev pěstujeme pro: kořen list květ

3

6) Rozhodni, zda jsou věty pravdivé. ano (A) ne (N)

Pro strýčka jsem vnouče. (N)

Maminka maminky je moje babička. (A)

Syn mé tety je můj bratr. (N)

3

7) Vybarvi stejnou barvou smysl a jeho sídlo.

zrak	sluch	čich	chuť	hmat
jazyk	kůže	oko	nos	ucho

5

8) Škrtni, co do řádku nepatří.

angína	žlomenina	žloutenka	neštovice
odřenina	popálenina	zlomenina	chřipka
obvaz	nůžky	pravítko	náplast

3

9) Doplň tabulku.



	LES	POLE	LOUKA	VODA
ROSTLINA	slon	kytka	sedmikráska	slamadi
ŽIVOČICH	slk	syseľ	motyl	ryba

38

8